

UŽDUOTIS

- 1) Nubraižyti kvadratą, kurio kraštinės ilgis 5 cm. Nuspalvinti kvarato dalį, atitinkančią 25 % ir užpildyti lentelę

	Paprastoji trupmena	Dešimtainė trupmena	Procentai
Nuspalvinta			
Nenuspalvinta			

- 2) Muzikos mokyklą lanko 0,24 visų klasės mokinių. Kiek procentų visų klasės mokinių lanko muzikos mokyklą? Kiek procentų klasės mokinių nelanko muzikos mokyklos?

- 3) Procentais nurodytą euro dalį užrašykite paprastąja ir dešimtaine trupmena:

- a) 1%; b) 23%; c) 97%; d) 83%

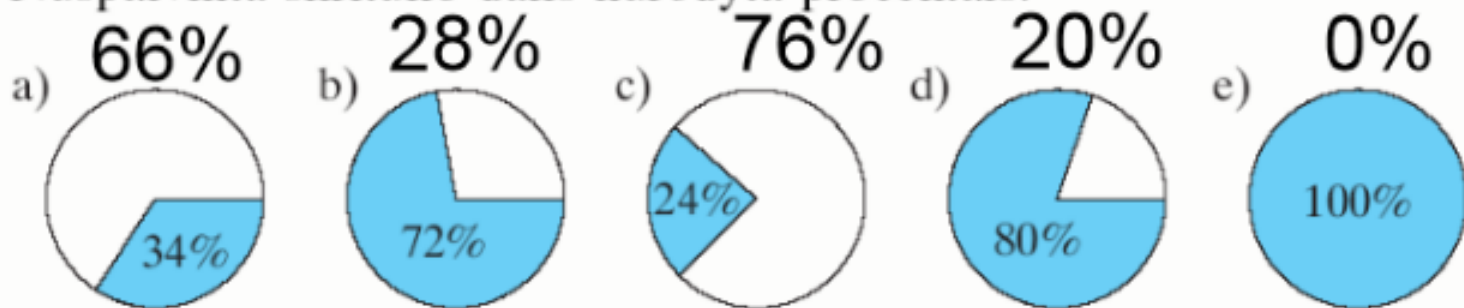
Skaičiaus procentų radimo uždaviniai

Uždavinys

Mokėti spręsti skaičiaus procentų
radimo uždavinius

Pakartokime

197. Nuspalvinta skritulio dalis nurodyta procentais.



- 1) Užrašykite šią dalį paprastąja trupmena ir dešimtaine trupmena.
- 2) Užrašykite nuspalvinta skritulio dalį procentais.

Procentai	34%	72%	24%	80%	100%
Paprastoji trupmena					
Dešimtainė trupmena					





Ažuolai ? %



Klevai 5 %



Beržai 57 %



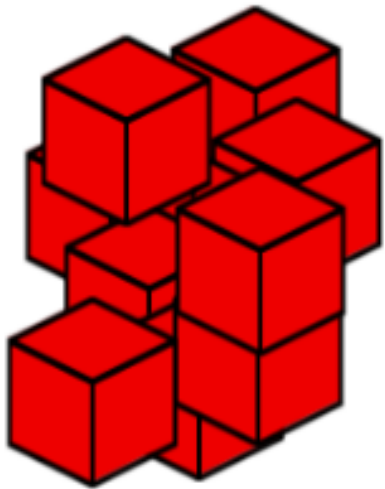
Kaštonai 23%

Parke auga keturių rūšių 1200 medžių.

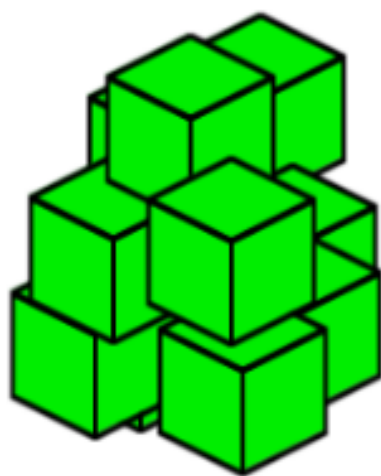
- 1) Kiek procentų sudaro visi parke augantys medžiai?
- 2) Kiek procentų medžių sudaro ąžuolai?
- 3) Užrašyti paprastąją ir dešimtainę trupmeną, kurią visų parke augančių medžių dalį sudaro ąžuolai.
- 4) Kiek ąžuolų auga miške?
- 5) Kiek miške auga klevų, beržų ir kaštonų?
- 6) Kurių medžių parke auga daugiausiai? Mažiausiai?

Nr. 189.

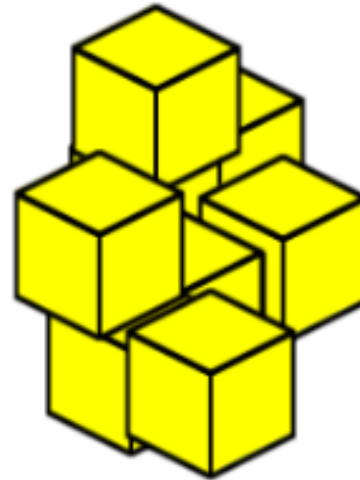
Aušra turi 100 kaladėlių. Kiek kiekvienos spalvos kaladėlių turi Aušra?



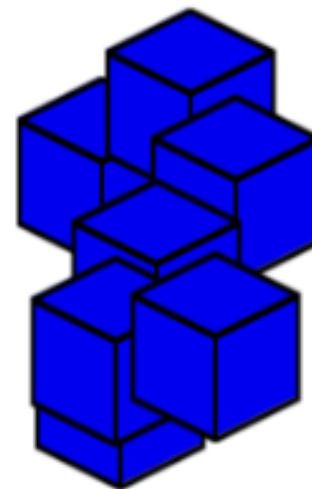
26%



23%



18%



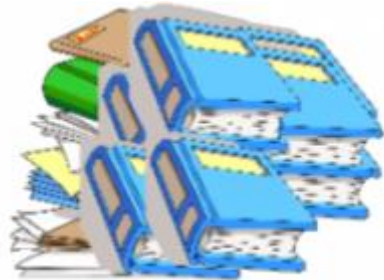
20%



13%

Nr. 190

Mokyklos biblioteka užsakė 200 naujų vadovėlių. Matematikos vadovėliai sudarė 30% užsakytų vadovėlių. Kiek biblioteka užsakė matematikos vadovėlių?



Taisyklė:

ieškodami p % skaičiaus A , skaičių A dalijame iš 100 ir dauginame iš p .

Nr. 194

Rietime yra 400m audinio. Pirmąją dieną buvo parduota 22%, o antrąją dieną - 31% audinio. Kiek metrų audinio liko rietime?



Sprendimas 1

Sprendimas 2

Nr. 196

Mokykos šventei salei papuošti reikėjo pagaminti 400 gėlių. Kiekviena mergaitė pagamino po 5% viso reikiamo gėlių kiekio.

- a) po kiek gėlių pagamino kiekviena mergaitė?
- b) kiek mergaičių gamino gėles?



Turistinė kelionė

Penktokai per šešias dienas nuvažiavo 400 km

Diena	Nuvažiuota kelio dalis	Nuvažiuota kelio dalis km	Nuvažiuota kelio dalis paprast. trupm.
Pirmadienis	18%		
Antradienis	20%		
Trečiadienis	26%		
Ketvirtadienis	17%		
Penktadienis	11%		
Šeštadienis	8%		
Viso			

Turistinė kelionė

Penktokai per šešias dienas nuvažiavo 400 km

Diena	Nuvažiuota kelio dalis	Nuvažiuota kelio dalis km	Nuvažiuota kelio dalis paprast. trupm.
Pirmadienis	18%	72	$\frac{18}{100}$
Antradienis	20%	80	$\frac{20}{100}$
Trečiadienis	26%	104	$\frac{26}{100}$
Ketvirtadienis	17%	68	$\frac{17}{100}$
Penktadienis	11%	44	$\frac{11}{100}$
Šeštadienis	8%	32	$\frac{8}{100}$
Viso	100%	400	$\frac{100}{100}$

Įsivertinimas



Namų darbas



Taisyklės psl. 52

